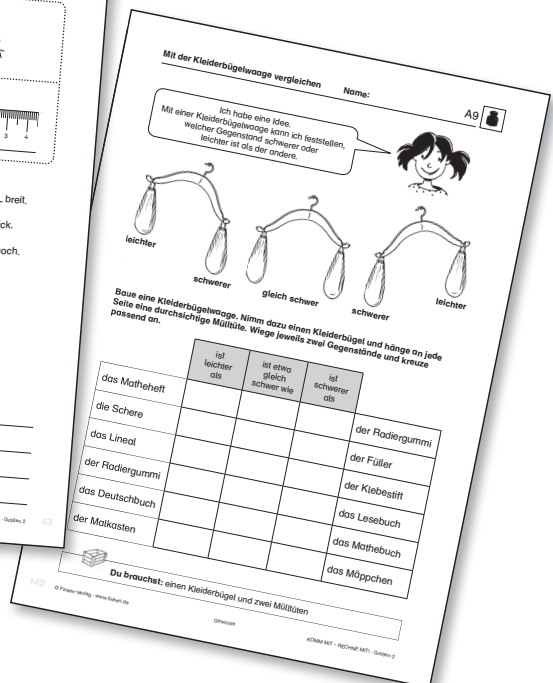
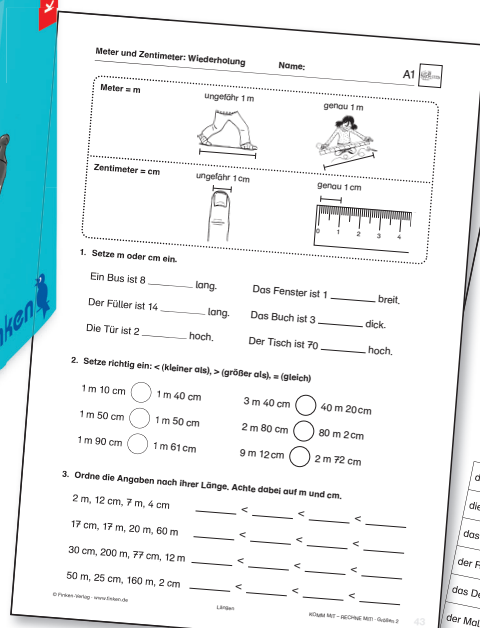


Finken-Gratisdownload

mit ausgewählten Musterseiten

Jetzt
kostenlos!






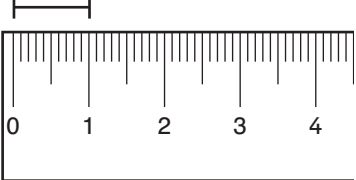
KOMM MIT - RECHNE MIT!

Größen 2

Artikel-Nr. 3032

Weitere Infos unter www.finken.de/3032



Meter = m	ungefähr 1 m 	genau 1 m 
Zentimeter = cm	ungefähr 1 cm 	genau 1 cm 

1. Setze m oder cm ein.

Ein Bus ist 8 _____ lang.

Das Fenster ist 1 _____ breit.

Der Füller ist 14 _____ lang.

Das Buch ist 3 _____ dick.

Die Tür ist 2 _____ hoch.

Der Tisch ist 70 _____ hoch.

2. Setze richtig ein: < (kleiner als), > (größer als), = (gleich)

1 m 10 cm ○ 1 m 40 cm

3 m 40 cm ○ 40 m 20 cm

1 m 50 cm ○ 1 m 50 cm

2 m 80 cm ○ 80 m 2 cm

1 m 90 cm ○ 1 m 61 cm

9 m 12 cm ○ 2 m 72 cm

3. Ordne die Angaben nach ihrer Länge. Achte dabei auf m und cm.

2 m, 12 cm, 7 m, 4 cm _____ < _____ < _____ < _____

17 cm, 17 m, 20 m, 60 m _____ < _____ < _____ < _____

30 cm, 200 m, 77 cm, 12 m _____ < _____ < _____ < _____

50 m, 25 cm, 160 m, 2 cm _____ < _____ < _____ < _____



Ich habe eine Idee.
Mit einer Kleiderbügelwaage kann ich feststellen,
welcher Gegenstand schwerer oder
leichter ist als der andere.



Baue eine Kleiderbügelwaage. Nimm dazu einen Kleiderbügel und hänge an jede Seite eine durchsichtige Mülltüte. Wiege jeweils zwei Gegenstände und kreuze passend an.


	ist leichter als	ist etwa gleich schwer wie	ist schwerer als	
das Matheheft				der Radiergummi
die Schere				der Füller
das Lineal				der Klebestift
der Radiergummi				das Lesebuch
das Deutschbuch				das Mathebuch
der Malkasten				das Mäppchen



Du brauchst: einen Kleiderbügel und zwei Mülltüten



Schwere Dinge wiegt man in Kilogramm (kg).



Eine Packung Mehl wiegt 1 kg.

Suche Gegenstände im Klassenraum.
Stelle einen 1-kg-Gewichtsstein auf die Tafelwaage.
Schreibe auf und kreuze richtig an.

	 weniger als 1 kg	 mehr als 1 kg	 genau 1 kg
Gegenstand			



Du brauchst: eine Tafelwaage, einen 1-kg-Gewichtsstein